



CONCURSO PÚBLICO
PREFEITURA MUNICIPAL DE PONTES E LACERDA
SECRETARIA MUNICIPAL DE ADMINISTRAÇÃO

EDITAL N.º 001/2022 – PMPL

FISCAL DE TRÂNSITO

Duração: 03h30min (três horas e trinta minutos)

Leia atentamente as instruções abaixo:

01 Você recebeu do fiscal o seguinte material:

a) Este Caderno, com 40 (quarenta) questões da Prova Objetiva, sem repetição ou falha, conforme distribuição abaixo:

LÍNGUA PORTUGUESA	RACIOCÍNIO LÓGICO	NOÇÕES DE INFORMÁTICA	CONHECIMENTOS ESPECÍFICOS
1 a 10	11 a 15	16 a 20	21 a 40

b) Um Cartão de Respostas destinado às respostas das questões objetivas.

- 02 Verifique se este material está em ordem e se o seu nome e número de inscrição conferem com os que aparecem no Cartão de Respostas. Caso contrário, notifique imediatamente o fiscal.
- 03 Após a conferência, o candidato deverá assinar no espaço próprio do Cartão de Respostas, com caneta esferográfica de tinta na cor azul ou preta.
- 04 No Cartão de Respostas da prova objetiva, a marcação da alternativa correta deve ser feita cobrindo a letra correspondente ao número da questão e preenchendo todo o espaço interno, com caneta esferográfica de tinta na cor azul ou preta, de forma contínua e densa.

Exemplo: A B C D

- 05 Para cada uma das questões objetivas, são apresentadas 4 (quatro) alternativas classificadas com as letras (A, B, C e D), mas só uma responde adequadamente à questão proposta. Você só deve assinalar uma alternativa. A marcação em mais de uma alternativa anula a questão, mesmo que uma das respostas esteja correta.
- 06 O candidato poderá entregar seu Cartão de Respostas, seu Caderno de Questões e retirar-se da sala de prova somente depois de decorridos 60 (sessenta) minutos do início da prova. O candidato que insistir em sair da sala de prova, descumprindo o aqui disposto, deverá assinar o Termo de Ocorrência declarando sua desistência do Concurso, que será lavrado pelo Coordenador do Local.
- 07 Ao candidato, será permitido levar seu CADERNO DE QUESTÕES a partir de 60 (sessenta) minutos para o término da prova e desde que permaneça em sala até esse momento.
- 08 Não será permitida a cópia de gabarito no local de prova. Ao terminar a prova de Conhecimentos, o candidato entregará obrigatoriamente o seu CARTÃO DE RESPOSTAS e o seu CADERNO DE QUESTÕES ao fiscal de sala, ressalvado o estabelecido no item 7.
- 09 Reserve os 30 (trinta) minutos finais para marcar seu Cartão de Respostas. Os rascunhos e as marcações assinaladas no Caderno de Questões não serão levados em consideração.
- 10 Os 3 (três) últimos candidatos permanecerão sentados até que todos concluem a prova ou que termine o seu tempo de duração, devendo assinar a ata de sala e retirar-se juntos.

LÍNGUA PORTUGUESA

Texto 1

Fuçando o seu armário

Roupas podem ser rastreadas. Tem certeza de que não tem dessas peças na sua gaveta?

Você sabia que a roupa que está vestindo pode ser rastreada? Calma, não é nenhum tipo de espionagem. Muito menos teoria da conspiração. Trata-se do controle produtivo desde a matéria-prima. O acompanhamento é feito pelo Programa Algodão Brasileiro Sustentável, ABR. Esta cadeia de moda carioca foi a primeira a se juntar ao projeto.

Esse cuidado é um dos trunfos dos empresários brasileiros para enfrentarem as desigualdades na concorrência com os estrangeiros. Produtores agrícolas nacionais lutam com entraves e desigualdade na competição em um mundo globalizado. Lidam com a alta carga tributária, questões cambiais, problemas de logística, protecionismos de países concorrentes, entre outros. Mesmo assim, o Brasil é o 4º maior produtor de algodão e o 2º exportador de fibra do mundo. A safra nacional se enquadra em um dos fatores mais sensíveis nas sociedades contemporâneas: a responsabilidade socioambiental.

Para fazer o dever de casa, os produtores se uniram em torno do Programa Algodão Brasileiro Sustentável (ABR) tendo como slogan “Sou de Algodão”. É uma espécie de cartilha enquadrada pela Agenda ESG que valida boas práticas sociais, econômicas e ambientais em todas as etapas da cadeia produtiva. Do total produzido no Brasil, cerca de 80% saem certificadas pela ABR. “Foi um esforço de 15 anos na busca e aplicação de melhores formas para garantir a qualidade e agregar práticas ambientais. Estamos num mundo cada vez mais consciente, o consumidor pode conhecer quem nós somos e como cultivamos o nosso algodão que ele veste” – justifica o presidente da Associação Brasileira dos Produtores de Algodão, Júlio Busato.

O objetivo do programa é oferecer ao consumidor a transparência da cadeia fornecedora e rastreabilidade certificada da origem da matéria-prima. O ABR é composto por 178 itens divididos em 8 critérios e recomendações. Ele incentiva a utilização de matéria-prima orgânica, o comprometimento com as preservações dos cursos de água – nascentes, corredeiras e reservas – e cuidados com o solo, entre outras. Para fazer parte desse grupo responsável, precisa se comprometer também com questões sociais, como: banimento de traços na cadeia de trabalho infantil e análogo ao escravo, além de estarem perfeitamente alinhados com as legislações nacionais e internacionais.

Os produtores começam a colher os bons frutos plantados em 2012 quando foi criado um protocolo único de certificação para as fazendas. Segundo levantamento da Associação Brasileira de Produtores de Algodão (Abrapa), 40 delas já foram certificadas: 32 na Bahia e oito em Goiás. São as primeiras propriedades que receberam a chancela na safra 2021/22. “É uma jornada longa conseguir levar essa certificação até a palma da mão do consumidor, que está mais exigente. Com o programa SouABR, entregamos o que ele pede: responsabilidade socioambiental e rastreabilidade”, explica Busato.

[Adaptado]

Luiz André Ferreira
O Dia, 04 de junho de 2022.
Disponível em <https://odia.ig.com.br/colunas/luiz-andre-ferreira/2022/06/6416023-fucando-o-seu-armario.html>

1. O objetivo principal do texto é apresentar:

- A) um sistema de combate ao trabalho escravo e infantil no Brasil
- B) um controle moderno de espionagem de roupas feitas de algodão
- C) uma justificativa para o aumento da safra anual de algodão no país
- D) um programa de controle de produção da matéria-prima de roupas de algodão

2. “É uma espécie de cartilha enquadrada pela Agenda ESG que valida boas práticas sociais, econômicas e ambientais em todas as etapas da cadeia produtiva” (3º parágrafo).

Esse trecho pode ser caracterizado como:

- A) descritivo
- B) narrativo
- C) expositivo
- D) argumentativo

3. “Para fazer o dever de casa, os produtores se uniram em torno do Programa Algodão Brasileiro Sustentável (ABR) tendo como slogan ‘Sou de Algodão’” (3º parágrafo).

O trecho destacado poderia ser substituído por:

- A) Mesmo fazendo o dever de casa
- B) Em face de fazer o dever de casa
- C) Ainda que fazendo o dever de casa
- D) Com o intuito de fazer o dever de casa

4. “Ele incentiva a utilização de matéria-prima orgânica, o comprometimento com as preservações dos cursos de água – nascentes, corredeiras e reservas – e cuidados com o solo, entre outras” (4º parágrafo). No texto, o pronome “ele”, em destaque, faz referência a:

- A) ABR
- B) solo
- C) objetivo
- D) consumidor

5. “Segundo levantamento da Associação Brasileira de Produtores de Algodão (Abrapa), 40 delas já foram certificadas: 32 na Bahia e oito em Goiás” (5º parágrafo).

O conector destacado expressa sentido de:

- A) proporção
- B) comparação
- C) conformidade
- D) consequência

6. “A safra nacional se enquadra em um dos fatores mais sensíveis nas sociedades contemporâneas: a responsabilidade socioambiental” (2º parágrafo).

O trecho destacado tem a função de indicar uma:

- A) generalização
- B) exemplificação
- C) comparação
- D) consequência

7. “Esta cadeia de moda carioca foi a primeira a se juntar ao projeto” (1º parágrafo). O verbo destacado na frase está no mesmo tempo e modo verbal do verbo sublinhado em:

- A) “Estamos num mundo cada vez mais consciente” (3º parágrafo)
- B) “Você sabia que a roupa que está vestindo pode ser rastreada?” (1º parágrafo)
- C) “Os produtores começam a colher os bons frutos plantados em 2012” (5º parágrafo)
- D) “[...] os produtores se uniram em torno do Programa Algodão Brasileiro” (3º parágrafo)

8. “Produtores agrícolas nacionais lutam com entraves” (2º parágrafo). O acento gráfico utilizado na palavra destacada segue a mesma regra de:

- A) até
- B) Goiás
- C) logística
- D) sustentável

9. Ocorre voz passiva em:

- A) “O acompanhamento é feito pelo Programa Algodão Brasileiro Sustentável, ABR” (1º parágrafo)
- B) “[...] justifica o presidente da Associação Brasileira dos Produtores de Algodão, Júlio Busato” (3º parágrafo)
- C) “É uma jornada longa conseguir levar essa certificação até a palma da mão do consumidor [...]” (5º parágrafo)
- D) “Mesmo assim, o Brasil é o 4º maior produtor de algodão e o 2º exportador de fibra do mundo” (2º parágrafo)

10. “Esse cuidado é um dos trunfos dos empresários brasileiros para enfrentarem as desigualdades na concorrência com os estrangeiros” (2º parágrafo).

No texto, a palavra “trunfo” pode ser compreendida como:

- A) um jogo de cartas de baralho
- B) uma carta de um naipe específico
- C) um novo maquinário para a produção industrial
- D) algum tipo de vantagem sobre os concorrentes

RACIOCÍNIO LÓGICO

11. Ao verificar a quantia, em reais, que traz em sua carteira, Pedro concluiu que, se somasse 178 reais a essa quantia ou se multiplicasse esse valor por 3, o resultado seria o mesmo.

A soma dos algarismos que representa a quantia que Pedro carrega na sua carteira, em reais, corresponde a:

- A) 15
- B) 16
- C) 17
- D) 18

12. Sem utilizar o algarismo zero, Marcelo escreveu em seu caderno todos os números pares de dois algarismos.

A quantidade de números escritos por Marcelo é igual a:

- A) 24
- B) 28
- C) 32
- D) 36

13. Um pote contém 6 balas, sendo uma de morango, uma de hortelã, uma de banana, uma de café, uma de chocolate e uma de mel. Um outro pote contém 4 balas, sendo uma bala de framboesa, uma de morango, uma de uva e uma de chocolate. O número máximo de maneiras diferentes de uma pessoa escolher uma bala de cada pote, de modo que os sabores não sejam iguais, é igual a:

- A) 20
- B) 22
- C) 24
- D) 28

14. Em uma repartição pública, trabalham 46 funcionários. Destes, 25 trabalham no setor A e 17 são assistentes administrativos. Sabe-se ainda que 8 funcionários trabalham no setor A e são técnicos administrativos.

A quantidade de funcionários que não trabalham no setor A e não são técnicos administrativos é igual a:

- A) 12
- B) 13
- C) 14
- D) 15









15. A negação da afirmação “Todos os técnicos em processamento de dados nasceram em Pontes e Lacerda” está corretamente indicada na seguinte alternativa:

- A) Nenhuma pessoa que nasceu em Pontes e Lacerda é técnico em processamento de dados.
- B) Pelo menos uma pessoa que nasceu em Pontes e Lacerda não é técnico em processamento de dados.
- C) Nenhum técnico em processamento de dados nasceu em Pontes e Lacerda.
- D) Pelo menos um técnico em processamento de dados não nasceu em Pontes e Lacerda.

NOÇÕES DE INFORMÁTICA

16. Ao trabalhar em um microcomputador ou *notebook*, com sistema operacional Windows 10 BR 64 *bits*, observa-se, no canto inferior direito da tela do monitor de vídeo, que existe a Área de Notificação, onde estão localizados diversos ícones que auxiliam na operação, navegação e uso dos recursos. Entre esses ícones, um tem por função indicar o *status* da conexão *wireless* da internet, enquanto outro indica a percentagem de carga disponível da bateria.

Esses ícones são, respectivamente:

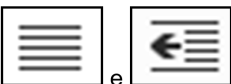

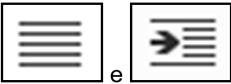

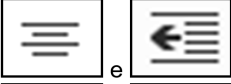



- A)  e 
- B)  e 
- C)  e 
- D)  e 

17. No que diz respeito aos principais periféricos de entrada e saída de dados que são integrados à configuração de microcomputadores e *notebooks*, existe um dispositivo que opera exclusivamente na entrada, funcionando na digitalização de imagens, fotos e textos impressos para o computador, um processo inverso ao da impressora. Esse dispositivo é conhecido como:

- A) *plotter*
- B) *scanner*
- C) *laserjet*
- D) *isostick*

18. No Word 2013 BR, um ícone tem por finalidade aplicar alinhamento centralizado a um texto selecionado, enquanto outro aumenta o recuo, movendo um parágrafo para mais longe da margem.

Esses ícones são, respectivamente:

- A)  e 
- B)  e 
- C)  e 
- D)  e 

19. A planilha abaixo foi criada no *Excel* do pacote *MSOffice 2019 BR*.

	A	B	C	D	E
1	 Prefeitura Municipal de PONTES E LACERDA				
2					
3	23	10	12	20	15
4					
5	MENOR NÚMERO =				10
6					
7	MÉDIA ARITMÉTICA =				?
8					
9	SOMA =				?

- Em E5, foi inserida uma expressão que determina o menor de todos os valores contidos nas células A3, B3, C3, D3 e E3, usando a função MENOR.
- Em E7, foi inserida a expressão =MÉDIA(A3:E3).
- Em E9, foi inserida a expressão =SOMA(A3:E3).

A expressão inserida em E5 e os valores mostrados em E7 e E9 são, respectivamente:

- A) =MENOR(A3:E3), 19 e 80
- B) =MENOR(A3:E3), 16 e 38
- C) =MENOR(A3:E3;1), 19 e 80
- D) =MENOR(A3:E3;1), 16 e 38

20. Atualmente, a preocupação com a segurança em redes e na internet tem crescido em importância, pois qualquer falha pode causar sérios prejuízos a uma instituição.

Em um tipo de fraude, um golpista tenta obter dados pessoais e financeiros de um usuário, pela utilização combinada de meios técnicos e engenharia social. Exemplos desse tipo de fraude ocorrem por meio do envio de mensagens eletrônicas que

- I. tentam se passar pela comunicação oficial de uma instituição conhecida, como um banco, uma empresa ou um *site* popular;
 - II. procuram atrair a atenção do usuário, seja por curiosidade, por caridade ou pela possibilidade de obter alguma vantagem financeira;
 - III. informam que a não execução dos procedimentos descritos pode acarretar sérias consequências, como a inscrição em serviços de proteção de crédito e o cancelamento de um cadastro, de uma conta bancária ou de um cartão de crédito.
- O tipo de fraude descrito é conhecido por:

- A) *trojan*
- B) *botnet*
- C) *phishing*
- D) *ransomware*

CONHECIMENTOS ESPECÍFICOS

21. No Sistema Nacional de Trânsito, o órgão a que compete julgar os recursos interpostos por infratores é o(a):

- A) CONTRAN
- B) CETRAN
- C) CONTRANDIFE
- D) JARI

22. De acordo com o Código de Trânsito Brasileiro, salvo exceções relacionadas a tipos específicos de veículos regulamentadas pelo Contran, o transporte de crianças no banco dianteiro somente é possível quando a criança tiver idade mínima de:

- A) 8 anos e, também, tenha atingido 1,40 m de altura
- B) 9 anos e, também, tenha atingido 1,45 m de altura
- C) 10 anos e, também, tenha atingido 1,45 m de altura
- D) 11 anos e, também, tenha atingido 1,40 m de altura

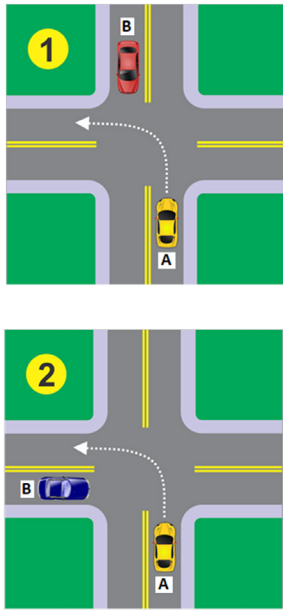
23. Em uma via urbana de trânsito rápido, em que não há sinalização regulamentadora e respeitando as condições operacionais de trânsito e da via, as velocidades máxima e mínima permitidas são de, respectivamente:

- A) 80 km/h e 20 km/h
- B) 80 km/h e 40 km/h
- C) 100 km/h e 30 km/h
- D) 100 km/h e 50 km/h

24. De acordo com o Código de Trânsito Brasileiro, conduzir veículo com validade da Carteira Nacional de Habilitação (CNH) vencida há mais de 30 dias é infração:

- A) grave, aplicando-se multa, recolhimento da CNH e retenção do veículo até a apresentação de condutor habilitado
- B) grave, apenas com recolhimento da CNH e retenção do veículo até a apresentação de condutor habilitado
- C) gravíssima, aplicando-se apenas multa e recolhimento da CNH
- D) gravíssima, aplicando-se multa, recolhimento da CNH e retenção do veículo até a apresentação de condutor habilitado

25. As figuras a seguir apresentam dois veículos, A e B, que se aproximam de um cruzamento não sinalizado.



(Adaptado de www.autoescolaonline.net)

Sabendo que, em ambas as figuras, o veículo A deseja virar à esquerda, pode-se afirmar que:

- A) Na figura 1, o veículo A deve dar passagem ao veículo B; na figura 2, o veículo B deve dar passagem ao veículo A
- B) Na figura 1, o veículo B deve dar passagem ao veículo A; na figura 2, o veículo A deve dar passagem ao veículo B
- C) Nas figuras 1 e 2, o veículo A deve dar passagem ao veículo B
- D) Nas figuras 1 e 2, o veículo B deve dar passagem ao veículo A

26. Um veículo para transporte de passageiros com lotação máxima de 20 lugares deve ser conduzido por motorista com CNH na categoria:

- A) A
- B) B
- C) C
- D) D

27. As figuras a seguir apresentam uma placa de advertência e outra de regulamentação.



As placas (1) e (2) indicam, respectivamente:

- A) passagem de nível e proibido apenas parar
- B) pista irregular e proibido parar e estacionar
- C) depressão e proibido apenas estacionar
- D) lombada e proibido parar e estacionar

28. Dentre as alternativas a seguir, aquela que apresenta dois equipamentos de segurança obrigatórios em veículos leves é:

- A) equipamento suplementar de retenção e equipamento registrador inalterável de velocidade e tempo
- B) encosto de cabeça e equipamento registrador inalterável de velocidade e tempo
- C) equipamento suplementar de retenção e luzes de rodagem diurna
- D) dispositivo destinado ao controle de gases poluentes e dispositivo para travamento das rodas

29. A sinalização viária horizontal é executada sobre o pavimento para o controle, advertência, orientação ou informação do usuário. Nesse tipo de sinalização, a cor utilizada na regulamentação de fluxos de sentidos opostos, na delimitação de espaços proibidos para estacionamento e/ou parada e na marcação de obstáculos é o:

- A) Amarelo
- B) Azul
- C) Preto
- D) Vermelho

30. O radar de velocidade é um instrumento de fiscalização eletrônica de trânsito utilizado pelos órgãos de trânsito para controlar a velocidade de circulação dos veículos. Esses radares diferem em relação a sua forma e modo de funcionamento. Assim, o tipo de radar que não demanda a operação por um agente de trânsito e que fica instalado nas vias, normalmente nos postes, é conhecido como radar:

- A) fixo
- B) estático
- C) móvel
- D) portátil

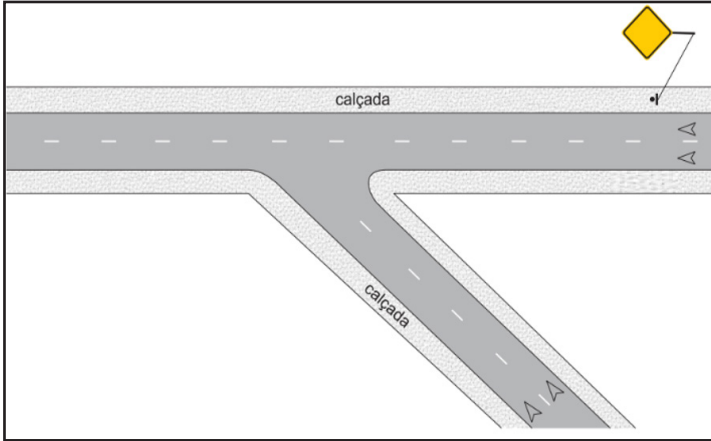
31. O sinal de regulamentação empregado na sinalização vertical de uma via que representa uma “passagem obrigatória” é:

- A)
- B)
- C)
- D)

32. Dentre os princípios aplicados na sinalização de trânsito, aquele que estabelece que situações iguais devem ser sinalizadas com os mesmos critérios é o de:

- A) precisão
- B) suficiência
- C) clareza
- D) padronização

33. Deseja-se colocar uma sinalização vertical de advertência no ponto indicado na figura a seguir.



A placa a ser inserida é a de:

- A) confluência à esquerda
- B) confluência à direita
- C) entroncamento oblíquo à esquerda
- D) entroncamento oblíquo à direita

34. Apresenta-se a seguir um conjunto de placas utilizadas para sinalização vertical de indicação.



Essas placas indicam:

- A) áreas para a prática de esporte
- B) atrativos turísticos naturais
- C) áreas de recreação
- D) atrativos históricos e culturais

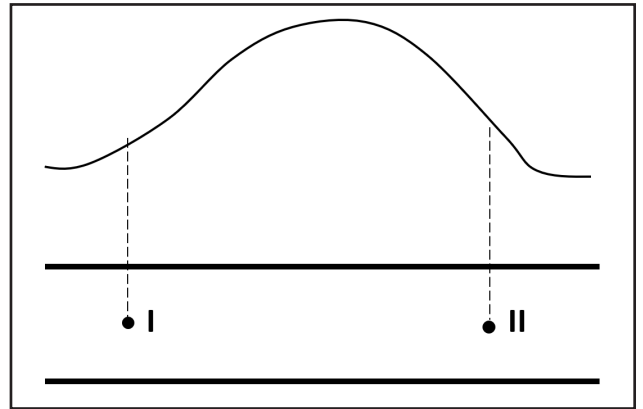
35. Algumas placas de sinalização vertical são dotadas de iluminação externa frontal, e outras são dotadas de iluminação interna. Esses dois tipos de placa são denominadas, respectivamente:

- A) luminosas e retrorrefletivas
- B) retrorrefletivas e iluminadas
- C) iluminadas e luminosas
- D) luminosas e iluminadas

36. Na sinalização horizontal de trânsito, a cor vermelha é utilizada para:

- A) separar movimentos veiculares de mesmo sentido
- B) regulamentar passagem e deslocamento lateral
- C) delimitar áreas destinadas a portadores de deficiência física
- D) demarcar ciclovias e ciclofaixas

37. A figura a seguir mostra, na parte de cima, o perfil longitudinal de uma rodovia de mão dupla e, na parte de baixo, dois pontos situados no centro da via.



A alternativa que indica corretamente como deve ser a pintura que separa as faixas de sentidos diferentes nesses dois pontos é:

- A) I II
- B) I II
- C) I II
- D) I II

38. A sequência correta de acionamento das indicações luminosas de um semáforo de pedestres é:

- A) verde, vermelho, retornando ao verde
- B) verde, verde intermitente, vermelho, retornando ao verde
- C) verde, vermelho intermitente, vermelho, retornando ao verde
- D) verde, vermelho intermitente, vermelho, verde intermitente, retornando ao verde

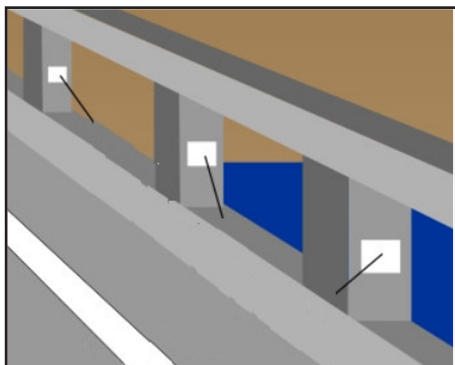
39. Trecho extraído do Manual Brasileiro de Fiscalização de Trânsito:

“são providências de caráter complementar, exigidas para a regularização de situações infracionais, sendo, em grande parte, de aplicação momentânea, e têm como objetivo prioritário impedir a continuidade da prática infracional, garantindo a proteção à vida e à incolumidade física das pessoas e não se confundem com penalidades”

Esse trecho refere-se a uma:

- A) lei de trânsito
- B) medida administrativa
- C) tipificação de enquadramento
- D) autuação

40. A figura a seguir ilustra um dispositivo auxiliar de sinalização, utilizado em uma ponte.



Esse dispositivo é denominado:

- A) balizador retrorrefletivo
- B) tacha de iluminação
- C) marcador de alinhamento
- D) cilindro delimitador

RASCUNHO